

Московская олимпиада школьников по географии 2023-2024 учебный год.

Отборочный этап. 6 класс

№	Критерии ответа		Макс. балл
	Вариант 1	Вариант 2	
1	Африка; Джибути.	Европа; Россия.	4
	<i>Полностью верный ответ – 4 балла. Если верно указана только часть света – 2 балла. В случае, если часть света определена неверно, вторая часть ответа не проверяется. Засчитывается только орфографически верный ответ.</i>		
2	Новый свет: Кирибати, Палау, Мексика, Ямайка. Старый свет: Армения, Босния и Герцеговина, Бенин, Бутан, Маврикий, Сомали.	Новый свет: Фиджи, Маршалловы Острова, Суринам, Тувалу. Старый свет: Таиланд, Монако, Вьетнам, Лесото, Мальта, Либерия.	7
	<i>Полностью верный ответ – 7 баллов. Штраф за каждую ошибку – 1 балл. Больше 3 ошибок – 0 баллов.</i>		
3	Пункты остановок экспедиции: 27°33' ю.ш. 48°29' з.д.; 50°09' с.ш. 5°04' з.д.	Пункты, которые экспедиция не посещала: 33°55' ю.ш., 18°29' в.д.; 34°01' с.ш., 06°50' з.д.	3
	<i>Полностью верный ответ – 3 балла. Если верно указан только один вариант ответа без приведения ошибочного/ошибочных вариантов ответа – 1 балл. Обращаем внимание, что в задании спрашивается про пункты остановок/посещения, поэтому точки, находящиеся в открытом океане, не могут считаться верным ответом.</i>		
4	Известняк; Предуралье.	Пемза; полуостров Камчатка.	4
	<i>Полностью верный ответ – 4 балла. Если верно указана только горная порода – 2 балла. В случае, если горная порода определена неверно, вторая часть ответа не проверяется.</i>		
5	Шельфовые моря: Белое, Жёлтое.	Шельфовые моря: Азовское, Чукотское.	2
	<i>Если верно указано только одно шельфовое море без приведения ошибочного/ошибочных вариантов ответа – 1 балл.</i>		
Максимальное количество баллов – 20			

Московская олимпиада школьников. География. 6 класс. Отборочный этап, 2023/24 год

25 дек 2023 г., 10:00 — 9 янв 2024 г., 23:59

№ 1, вариант 1

4 балла

Определите часть света по двум характеристикам:

- отличается наименьшей расчленённостью береговой линии;
- на её территории можно встретить как потухшие, так и действующие вулканы.

Африка

Запишите название страны, на территории которой располагается самая низкая (относительно уровня моря) точка в этой части света.

Джибути

№ 1, вариант 2

4 балла

Определите часть света по двум характеристикам:

- отличается наибольшей расчлененностью береговой линии;
- широко представлены равнинные территории с абсолютными высотами до 200 м.

Европа

Запишите название страны, на территории которой располагается самая низкая (относительно уровня моря) точка в этой части света.

Россия

№ 2, вариант 1

7 баллов

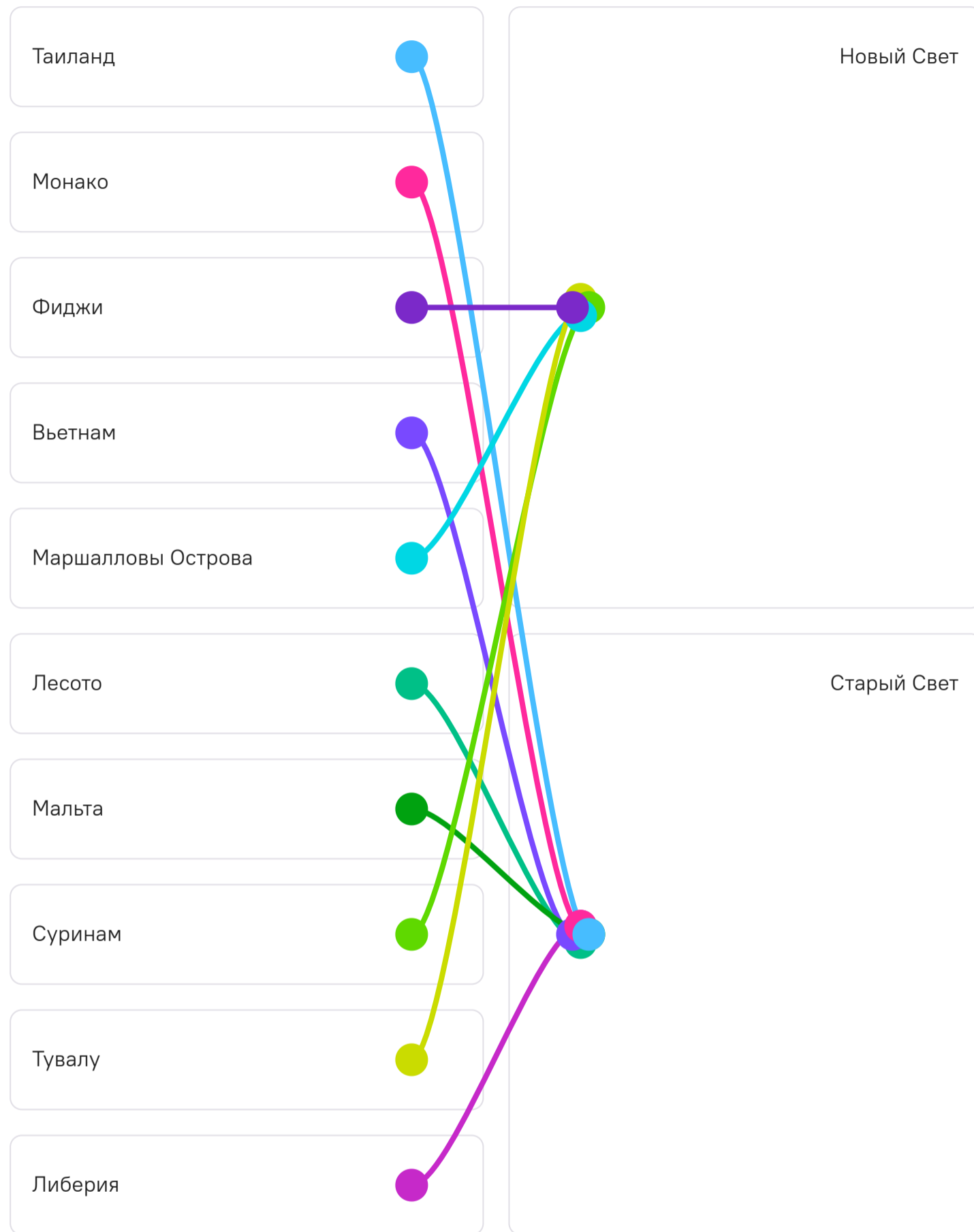
Распределите перечисленные ниже страны по их принадлежности к двум историко-географическим макрорегионам.



№ 2, вариант 2

7 баллов

Распределите перечисленные ниже страны по их принадлежности к двум историко-географическим макрорегионам.



№ 3, вариант 1

3 балла

В 2023 г. исполнилось 220 лет с начала первой кругосветной экспедиции под командованием Ивана Крузенштерна и Юрия Лисянского. В июле 1803 г. они вышли на кораблях «Надежда» и «Нева» из гавани Кронштадта. По пути следования корабли бросали якоря у берегов разных стран. Зная маршрут экспедиции, определите по географическим координатам пункты остановок путешественников.

 27°33' ю.ш. 48°29' з.д. 38°43' с.ш. 9°10' в.д. 9°27' ю.ш. 147°11' в.д. 38°32' с.ш. 19°43' в.д. 12°02' ю.ш. 77°01' з.д. 50°09' с.ш. 5°04' з.д.

№ 3, вариант 2

3 балла


В этом году исполнилось 220 лет с начала первой кругосветной экспедиции под командованием Ивана Крузенштерна и Юрия Лисянского. В июле 1803 г. они вышли на кораблях «Надежда» и «Нева» из гавани Кронштадта. По пути следования корабли бросали якоря у берегов разных стран. Зная маршрут экспедиции, определите пункты, которые экспедиция не посещала.

 53°01' с.ш. 158°39' в.д. 33°55' ю.ш. 18°29' в.д. 19°34' ю.ш. 155°30' з.д. 11°00' ю.ш. 115°30' з.д. 34°01' с.ш. 06°50' з.д. 36°19' с.ш. 132°50' з.д.

№ 4, вариант 1

4 балла

Укажите название горной породы, представленной на данном рисунке, если известно, что она имеет осадочное происхождение и растворима в контакте с водой.



- пемза
- мергель
- поваренная соль
- известняк
- мрамор
- песчаник
- кварцит

В природной среде какого из указанных районов можно встретить эту горную породу?

- Камчатский край
- Республика Карелия

Куршская коса

Предуралье


о. Суматра

о. Ява

№ 4, вариант 2

4 балла

Укажите название горной породы, представленной на данном рисунке, если известно, что она имеет вулканическое происхождение, обладает гигроскопичностью и плавучестью.

 базальт обсидиан гранит мрамор пемза риолит песчаник

В природной среде какого из указанных районов можно встретить эту горную породу?

 Республика Карелия Полуостров Камчатка Куршская коса Мальдивские острова

о. Мадагаскар Полуостров Флорида**№ 5, вариант 1**

2 балла

Какие из указанных морей являются шельфовыми?

 Андаманское Белое Гренландское Жёлтое Карибское Коралловое

№ 5, вариант 2

2 балла

Какие из указанных морей являются шельфовыми?

 Азовское Берингово Карибское Саргассово Тасманово Чукотское